

PROBLEMA A.3. Obtener razonadamente, escribiendo todos los pasos del razonamiento utilizado:

- a) Los intervalos de crecimiento y de decrecimiento de la función real f definida por $f(x) = (x - 1)(x - 3)$, siendo x un número real. (3 puntos)
- b) El área del recinto acotado limitado entre las curvas $y = (x - 1)(x - 3)$ e $y = -(x - 1)(x - 3)$. (4 puntos)
- c) El valor positivo de a para el cual el área limitada entre la curva $y = a(x - 1)(x - 3)$, el eje Y y el segmento que une los puntos $(0, 0)$ y $(1, 0)$ es $4/3$. (3 puntos)

Solución:

a) Para obtener los intervalos de crecimiento y decrecimiento de la función tenemos que estudiar el signo de $f'(x)$.

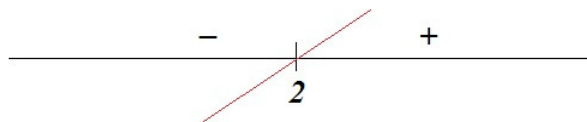
$$f(x) = (x - 1)(x - 3), \text{ efectuando las operaciones: } f(x) = x^2 - 4x + 3$$

$Dom f(x) = \mathbb{R}$, por ser una función polinómica.

$$f'(x) = 2x - 4$$

$$2x - 4 = 0; \quad 2x = 4; \quad x = 2$$

Para obtener el signo de $f'(x)$ consideremos que $f'(x)$ es un polinomio de primer grado con coeficiente de x positivo cuya raíz es $x = 2$, es decir:



Por tanto, $f(x)$ es creciente en $(2, +\infty)$ y decreciente en $(-\infty, 2)$

b) Área del recinto acotado limitado entre las curvas

$$y = (x - 1)(x - 3) = x^2 - 4x + 3 \quad e$$

$$y = -(x - 1)(x - 3) = -x^2 + 4x - 3$$

Busquemos los puntos de corte entre las dos curvas:

$$x^2 - 4x + 3 = -x^2 + 4x - 3$$

$$2x^2 - 8x + 6 = 0; \text{ simplificando entre dos: } x^2 - 4x + 3 = 0 \rightarrow (x - 1)(x - 3) = 0 \rightarrow$$

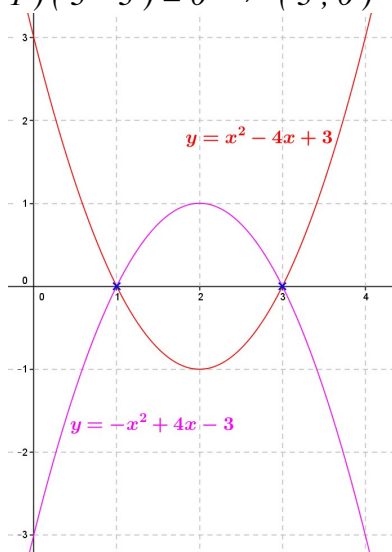
$$\begin{cases} x - 1 = 0 \rightarrow x = 1 \\ x - 3 = 0 \rightarrow x = 3 \end{cases}$$

$$\begin{cases} x - 1 = 0 \rightarrow x = 1 \\ x - 3 = 0 \rightarrow x = 3 \end{cases}$$

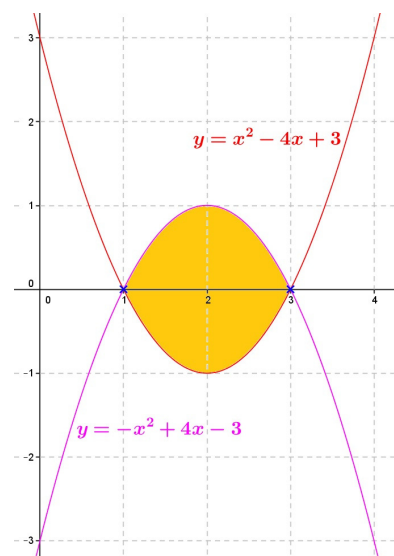
$$\text{Para } x = 1, \quad y = (1 - 1)(1 - 3) = 0 \rightarrow (1, 0)$$

$$\text{Para } x = 3, \quad y = (3 - 1)(3 - 3) = 0 \rightarrow (3, 0)$$

Como las dos curvas son parábolas, podemos realizar la representación gráfica rápidamente:



El área pedida será:



Esta área la obtenemos a partir del siguiente cálculo integral:

$$A = \int_1^3 [(-x^2 + 4x - 3) - (x^2 - 4x + 3)] dx = \int_1^3 [-2x^2 + 8x - 6] dx = \left[\frac{-2x^3}{3} + \frac{8x^2}{4} - 6x \right]_1^3 =$$

$$= \left[\frac{-2x^3}{3} + 4x^2 - 6x \right]_1^3 = \left(\frac{-2 \cdot 3^3}{3} + 4 \cdot 3^2 - 6 \cdot 3 \right) - \left(\frac{-2 \cdot 1^3}{3} + 4 \cdot 1^2 - 6 \cdot 1 \right) = (-18 + 36 - 18) - \left(\frac{-2}{3} + 4 - 6 \right) =$$

$$= 0 - \left(\frac{-2}{3} - 2 \right) = \frac{2}{3} + 2 = \frac{8}{3} \text{ u.a.}$$

Solución: $A = \frac{8}{3} \text{ u.a.}$

c) El valor positivo de a para el cual el área limitada entre la curva $y = a(x-1)(x-3)$, el eje Y y el segmento que une los puntos $(0, 0)$ y $(1, 0)$ es $4/3$.

Representación gráfica del problema.

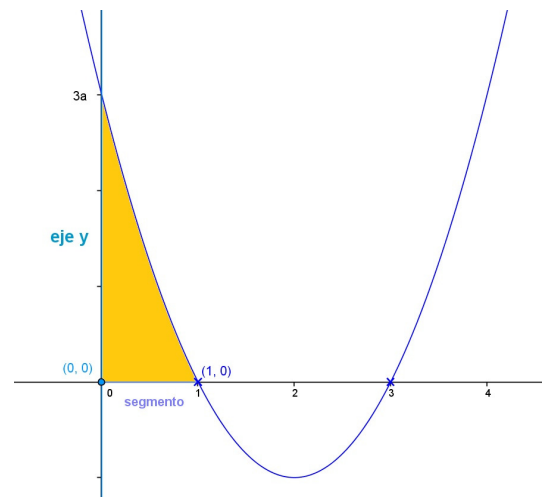
$y = a(x-1)(x-3) = a(x^2 - 4x + 3)$, como el valor de a deber ser positivo la parábola tiene la forma:

U

Calculamos algunos valores para representar la parábola

x	y
1	0
3	0
0	$3a$

Añadiendo el segmento que une los puntos $(0, 0)$ y $(1, 0)$ y el eje Y . El área que queremos calcular es:



Esta área la calculamos mediante la integral:

$$\int_0^1 a(x^2 - 4x + 3) dx = a \int_0^1 (x^2 - 4x + 3) dx = a \left[\frac{x^3}{3} - 4 \frac{x^2}{2} + 3x \right]_0^1 = a \left[\left(\frac{1^3}{3} - 4 \frac{1^2}{2} + 3 \cdot 1 \right) - 0 \right] = a \left(\frac{1}{3} - 2 + 3 \right) =$$

$$= a \left(\frac{1}{3} + 1 \right) = a \frac{4}{3}$$

Como deber ser $a \frac{4}{3} = \frac{4}{3} \rightarrow a = 1$

Solución: $a = 1$